

NOMBRE:..... NIVEL 5° C.

FECHA:..... C.E.I.P. SAN BERNARDO – LOS SILOS

M2R

Actividades del tema

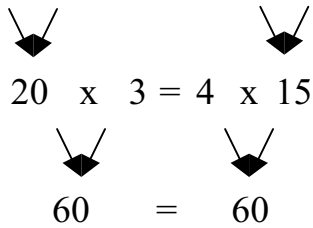
1.- Aplica las propiedades conmutativa, asociativa y distributiva de la multiplicación y calcula.

$9 \times 6 = 6 \times 9 = \dots\dots\dots$ $8 \times 7 = \dots\dots\dots$

$6 \times 8 = \dots\dots\dots$ $5 \times 6 = \dots\dots\dots$

He aplicado la propiedad

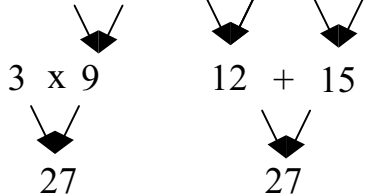
$(4 \times 5) \times 3 = 4 \times (5 \times 3) = \dots\dots\dots$ $(9 \times 2) \times 5 = \dots\dots\dots$



$(7 \times 8) \times 2 = \dots\dots\dots$ $(4 \times 3) \times 5 = \dots\dots\dots$

He aplicado la propiedad.....

$3 \times (4 + 5) = 3 \times 4 + 3 \times 5$ $4 \times (6 + 7) = \dots\dots\dots$



$5 \times (8 + 6) = \dots\dots\dots$

$3 \times (4 + 2) = \dots\dots\dots$

$4 \times (9 - 6) = 4 \times 9 - 4 \times 6$

$5 \times (8 - 3) = \dots\dots\dots$

$7 \times (9 - 4) = \dots\dots\dots$

$5 \times (5 - 2) = \dots\dots\dots$

2.- Calcula.

$124 \times 203 = \dots\dots\dots$

$236 \times 106 = \dots\dots\dots$

$345 \times 405 = \dots\dots\dots$

$439 \times 507 = \dots\dots\dots$

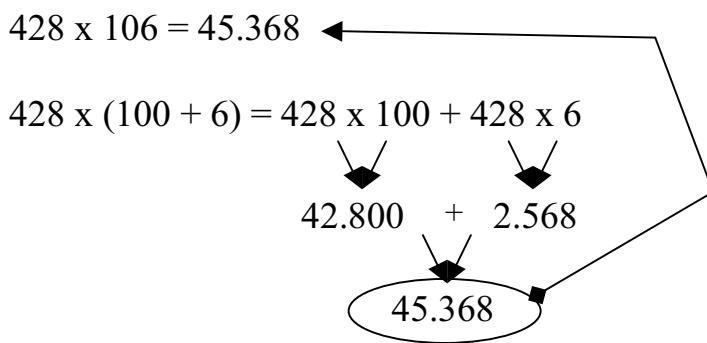
$518 \times 306 = \dots\dots\dots$

$785 \times 604 = \dots\dots\dots$

$725 \times 604 = \dots\dots\dots$

$817 \times 509 = \dots\dots\dots$

👉 **Observa el ejemplo resuelto y calcula de la misma forma.**



$528 \times 203 = \dots\dots\dots$

$645 \times 504 = \dots\dots\dots$

$746 \times 702 = \dots\dots\dots$

$894 \times 805 = \dots\dots\dots$

$937 \times 906 = \dots\dots\dots$

$532 \times 205 = \dots\dots\dots$

3.- Calcula el precio aproximado de cada lote.

Redondea el precio a la centena más próxima.

- Tres raquetas de 115 € cada una.

- Cuatro vídeos de 285 € cada uno.

- Cinco televisiones de 305 € cada uno.

Redondea el precio al millar más próximo.

- Cuatro frigoríficos de 1.125 € cada uno.

- Cinco motos de 2.896 € cada una.

- Seis coches de 7.210 € cada uno.

4.- Lee y resuelve.

- En la clase de Ramón están recogiendo botes y periódicos para reciclar. Han recogido 497 periódicos y 230 botes. ¿Cuántos periódicos y botes han recogido aproximadamente?

- Adela quiere comprar una jardinera para la terraza de su casa. Hay cuatro tipos de jardinera y cada jardinera está en tres colores distintos. ¿De cuántas maneras diferentes puede elegir Adela la jardinera?

- En un juego de ordenador, Lucía consiguió 145 puntos; Marcos consiguió el doble que Lucía, y Alberto consiguió el triple que Marcos. ¿Cuántos puntos consiguieron entre los tres?